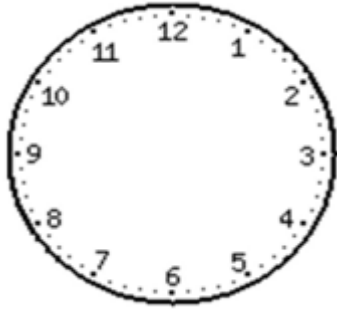




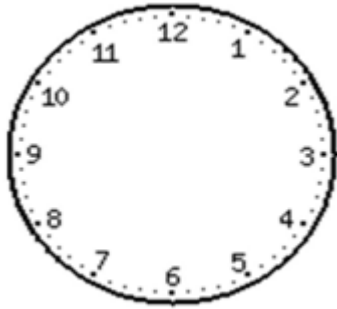
2. Ubica las manecillas del reloj según indique la hora.



12:30



5:00



1:00



6:30





11:30





2:00


3. ¿Cuántos dólares necesitas para comprar estos objetos?


 <b>\$ 9,60 ctv</b>


 <b>\$ 25.10 ctv</b>


 <b>\$ 10.10 ctv</b>

 <b>\$ 30.20 ctv</b>

 <b>\$ 21.25 ctv</b>

 <b>\$ 29.50 ctv</b>

 <b>\$ 35.00</b>

 <b>\$ 45.00</b>

4. Completo el calendario y contesto las preguntas.

ABRIL						
lunes	martes	miércoles	jueves	viernes	sábado	domingo
		1	2			5
6		8		10		12
	14	15				19
20			23			
27			30			

a) ¿Qué día es 23 de abril?


b) ¿Cuántos miércoles hay en este mes?


c) ¿Qué fecha tiene el primer domingo?


➤ Colorea en el calendario de color azul la fecha del primer lunes.

➤ Tacha con una X en el calendario la fecha del último día del mes

➤ Que día es 14 de abril




Muy buen trabajo, todo esfuerzo tiene su recompensa...  
Estás listo para Tercero =)



**Proyecto de matemática tercer parcial**  
**2º Año EGB**  
**Año lectivo 2015 - 2016**